

भाग 'क' : वाचन

एकूण 50 गुण

1) दिलेल्या अक्षरांना शब्दात ओळखून गोल करा.






1×6 = 6

क झोका सकाळ कपाट

स सनई पाऊस आसन

2) रेषा ओढून शब्द व चित्र यांच्या जोड्या लावा.

1 × 5 = 5

(अ) रेडिओ	
(ब) कंगवा	
(क) सफरचंद	
(ड) कुऱ्हाड	
(इ) हातोडा	

3) चित्रात दिसणाऱ्या चार वस्तूंच्या नावाला गोल करा.

2×4 = 8



केळी आंबा मुलगा झाड मुलगी कुत्रा

4) वाक्यांशाचे योग्य भाग रेषेने जोडा.

2×5 = 10

गट अ	गट ब
(1) टपालपेटीचा रंग	जॉब कार्ड दिले जाते.
(2) रंगपंचमी हा	फळ आहे.
(3) मनरेगा योजनेअंतर्गत प्रत्येक कामगारास	डासांमार्फत होतो.
(4) मलेरियाचा प्रसार	रंगांचा सण आहे.
(5) सफरचंद हे	लाल असतो.

5) खाली दिलेले चित्र पाहून योग्य वाक्यांसमोर (✓) व अयोग्य वाक्यांसमोर (×) अशी खूण करा. 3×3= 9



- 1) मतदान केंद्रावर मतदारांच्या बोटावर शाई लावली जाते. ()
- 2) कोविड काळात मतदान केंद्रावर सुरक्षित अंतर ठेवणे अनिवार्य नाही. ()
- 3) भारतीय निवडणूक आयोगाकडून मतदार यादी प्रसिद्ध केली जाते. ()

6) खाली दिलेले चित्र पाहून योग्य वाक्यांसमोर (✓) व अयोग्य वाक्यांसमोर (×) अशी खूण करा. 2 × 6 = 12



- 1) मुलाच्या हातात छत्री आहे. ()
- 2) मांजर मुलाबरोबर खेळत आहे. ()
- 3) पावसात दोन मुले खेळत आहेत. ()
- 4) ढगातून पाऊस पडत आहे. ()
- 5) मुलाने पायात बूट घातले आहेत. ()
- 6) चित्रात सूर्य दिसत आहे. ()

भाग 'ख' : लेखन

एकूण 50 गुण

1) खाली दिलेल्या अक्षरांपासून शब्द बनवा.

2 × 3 = 6






क - _____

ज - _____

ब - _____

2) चित्र पाहून नाव लिहा.

2 × 5 = 10

	_____
	_____
	_____
	_____
	_____

3) खालील चौकटीतील शब्दांतून योग्य शब्द निवडून वाक्य पूर्ण करा.

2 × 4 = 8

15 ऑगस्ट, रूग्णांवर, फळ, कार्टून

- 1) आंबा हे एक ----- आहे.
- 2) डॉक्टर ----- उपचार करतात.
- 3) भारतीय स्वातंत्र्य दिन ----- रोजी साजरा केला जातो.
- 4) मिकी माऊस हे एक ----- आहे.

4) दिलेल्या शब्दापासून वाक्य बनवा.

3 × 3 = 9

- 1) शाळा - -----
- 2) गाय - -----
- 3) शेती - -----

5) तुमच्या जवळच्या शाळेचे नाव व पत्ता लिहा.


1 × 2 = 2

शाळेचे नाव - -----

शाळेचा पत्ता - -----

6) खालील चित्र पाहून 5 वाक्ये लिहा.

$3 \times 5 = 15$



1) -----

2) -----

3) -----

4) -----







5) -----

भाग 'ग' : संख्याज्ञान

एकूण 50 गुण

1) चित्रे आणि संख्या यांच्या जोड्या जुळवा.

$$1 \times 6 = 6$$

	06
	08
	05
	11
	16
	20

2) क्रमाने संख्या पूर्ण करा.

1×5 = 5

क)	15	25	35	_____
ख)	80	100	_____	140
ग)	150	_____	250	300
घ)	35	40	_____	50
च)	_____	42	44	46

3) वस्तू व किमती यांच्या जोड्या जुळवा.

1×3 = 3

दसर - ₹ 500	
पेन - ₹ 15	
बॅटरी - ₹ 150	

4) खालील उदाहरणे सोडवा.

2×4 = 8

अ) $\begin{array}{r} 82 \\ + 21 \\ \hline \end{array}$

$\begin{array}{r} 82 \\ + 21 \\ \hline \end{array}$

ब) $\begin{array}{r} 73 \\ - 26 \\ \hline \end{array}$

$\begin{array}{r} 73 \\ - 26 \\ \hline \end{array}$

क) $\begin{array}{r} 24 \\ \times 5 \\ \hline \end{array}$

$\begin{array}{r} 24 \\ \times 5 \\ \hline \end{array}$

ड) $\begin{array}{r} 6 \overline{) 84} \end{array}$

$\begin{array}{r} 6 \overline{) 84} \end{array}$

5) खालील उदाहरणे सोडवा.

$$2 \times 4 = 8$$

क) रमेशने आपल्या आईसाठी 450 रुपये किमतीची खुर्ची विकत घेतली. त्याने दुकानदारास 100 रूपयाच्या 5 नोटा दिल्या. दुकानदार रमेशला किती रुपये परत करील ?

ख) एका रुग्णाला डॉक्टरने 100 मिलीलीटर औषधाची बाटली दिली व दररोज 10 मिलीलीटर औषध घेण्यास सांगितले तर रुग्णाला किती दिवसाचे औषध मिळाले ?

6) रिकाम्या जागा भरा

$$2 \times 4 = 8$$

अ) 24 तास = ----- दिवस



आ) 1 किलोग्रॅम = -----ग्रॅम

इ) 100 सेंटीमीटर = -----मीटर

ई) 1000 मिलीलीटर = -----लीटर

7) घडयाळ पाहून वेळ लिहा

2×4 = 8

	
-----वाजून -----मिनिटे	-----वाजून -----मिनिटे

8) दिनदर्शिका पाहून उत्तरे लिहा.

1 × 4 = 4

मे 2023

रविवार	सोमवार	मंगळवार	बुधवार	गुरुवार	शुक्रवार	शनिवार
	1	2	3	4	5	6
7	8	9	10	11	12	13
14	15	16	17	18	19	20
21	22	23	24	25	26	27
28	29	30	31			

- 1) 25 तारखेला कोणता वार आला आहे ? -----
- 2) मे महिन्यात किती सोमवार आले आहेत ? -----
- 3) मे महिन्यात शेवटच्या दिवशी कोणता वार आला आहे ? -----
- 4) मे महिन्याचे एकूण दिवस किती आहेत ? -----