

उल्लास

मूल्यांकन पत्रिका

3. आपली संस्कृती



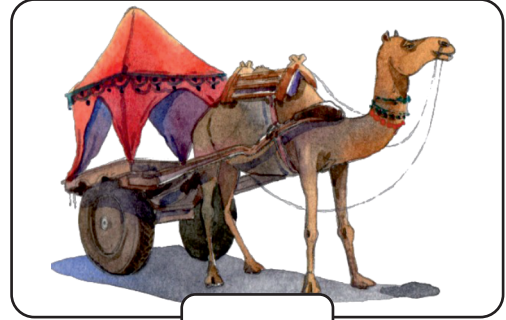
राज्य शैक्षणिक संशोधन व प्रशिक्षण परिषद, महाराष्ट्र, पुणे.

राज्य साक्षरता केंद्र

मूल्यांकन पत्रिका : 1

3. आपली संस्कृती

- खालीलपैकी जी दृश्ये किंवा वस्तू यात्रेत दिसतात, त्याखाली (✓) अशी खूण करा.



अध्ययन निष्पत्ती क्र. 7, 14

- आम्ही शिकलो : परिसरात आढळणाऱ्या वस्तू ओळखायला शिकलो.

मूल्यांकन पत्रिका : 2

3. आपली संस्कृती

- दिलेले शब्द वाचून चित्रात दिसणाऱ्या वस्तूंच्या नावाला वर्तुळ (○) करा.

घोडा, सायकल, कंदील, मुलगा, घर, कुत्रा,
छत्री, गाय, बैलगाडी, उंट, बकरी, मुलगी



अध्ययन निष्पत्ती क्र. 7, 9, 11, 14

- आम्ही शिकलो : चित्राचे निरीक्षण करून संबंधित वस्तू/बाबी ओळखायला शिकलो.

ढूलुडडडड डडडडड : 3

3. आडडडी डडडडडी

- डुडडडड डडडडडड आडडडडडड डडडडडी डडे ललहल.

अडुडडड डडडडडी डु. 9, 11, 13, 15

- आडुडी डडडडड : डडडडडड आडडडडडड डडडडडी डडे ललहलडल डडडडड.

मूल्यांकन पत्रिका : 4

3. आपली संस्कृती

प्रश्न 1 : खालील शब्दातील 'ओ' चा आवाज ओळखून त्या शब्दाला वर्तुळ (○) करा.

जसे - (ओ)ढा आवड औषध औजार

प्रश्न 2 : खालील शब्दातील 'मो' चा आवाज ओळखून त्या शब्दाला वर्तुळ (○) करा.

मोर माकड मणी मौन

प्रश्न 3 : खालील शब्दातील 'पो' चा आवाज ओळखून त्या शब्दाला वर्तुळ (○) करा.

पाणी पिपाणी पोवाडा पकड

प्रश्न 4 : खालील शब्दातील 'गौ' चा आवाज ओळखून त्या शब्दाला वर्तुळ (○) करा.

गौतम गोम गीता गाजर

प्रश्न 5 : खालील शब्दातील 'बो' चा आवाज ओळखून त्या शब्दाला वर्तुळ (○) करा.

बालक बिल बोर बदक

अध्ययन निष्पत्ती क्र. 3, 14

- आम्ही शिकलो : स्वर व त्याच्या मात्रा ओळखायला शिकलो.

मूल्यांकन पत्रिका : 5

3. आपली संस्कृती

- खाली दिलेल्या चित्रांशी संबंधित पाच शब्द लिहा.



- 1) _____
- 2) _____
- 3) _____
- 4) _____
- 5) _____



- 1) _____
- 2) _____
- 3) _____
- 4) _____
- 5) _____

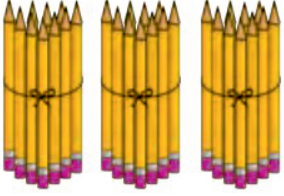



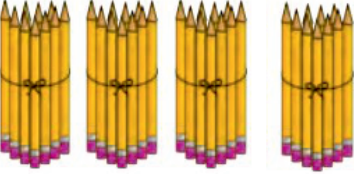

अध्ययन निष्पत्ती क्र. 9, 11, 12, 14

- आम्ही शिकलो : चित्रांशी संबंधित शब्द लिहायला शिकलो.

मूल्यांकन पत्रिका : 6

3. आपली संस्कृती

- खालील चित्रांतील संख्या मोजून लिहा व संख्येतील एकक व दशक लिहा.

वस्तूचा गट	सुट्या वस्तू	संख्या	दशक	एकक
 <input type="text"/>	 <input type="text"/>	= <input type="text"/>	<input type="text"/>	<input type="text"/>
 <input type="text"/>	 <input type="text"/>	= <input type="text"/>	<input type="text"/>	<input type="text"/>
 <input type="text"/>	 <input type="text"/>	= <input type="text"/>	<input type="text"/>	<input type="text"/>

अध्ययन निष्पत्ती क्र. 1, 2, 3, 4

- आम्ही शिकलो : वस्तू समूहाची बेरीज करून संख्या बनवायला आणि एकक व दशक ओळखायला शिकलो.

मूल्यांकन पत्रिका : 7

3. आपली संस्कृती

- चित्र पाहून संख्या मोजा व बेरीज करा.



$$+ \text{1 Rupee coin} = \boxed{}$$

$$\boxed{} + \boxed{} = \boxed{}$$



$$+ \text{2 Rupee coins} = \boxed{}$$

$$\boxed{} + \boxed{} = \boxed{}$$



$$+ \text{3 Rupee coins} = \boxed{}$$

$$\boxed{} + \boxed{} = \boxed{}$$

अध्ययन निष्पत्ती क्र. 1, 2, 3, 4, 5

- आम्ही शिकलो : 10 रु. च्या नोटांचा व 1 रु. च्या नाण्यांचा वापर करून बेरीज करायला शिकलो.

मूल्यांकन पत्रिका : 9

3. आपली संस्कृती

प्रश्न 1 : 45 रुपये होण्यासाठी 20 रुपयांच्या व 10 रुपयांच्या किती नोटा व 1 रुपयांची किती नाणी घ्यावी लागतील?

₹ 20 नोट :____, ₹ 10 नोट :____, ₹ 1 नाणी : ____

प्रश्न 2 : 34 रुपये होण्यासाठी 20 रुपयांच्या व 10 रुपयांच्या किती नोटा व 1 रुपयांची किती नाणी घ्यावी लागतील?

₹ 20 नोट :____, ₹ 10 नोट :____, ₹ 1 नाणी :____

प्रश्न 3 : 28 रुपये होण्यासाठी 20 रुपयांच्या व 10 रुपयांच्या किती नोटा व 1 रुपयांची किती नाणी घ्यावी लागतील?

₹ 20 नोट :____, ₹ 10 नोट :____, ₹ 1 नाणी : ____

प्रश्न 4 : 50 रुपये होण्यासाठी 20 रुपयांच्या व 10 रुपयांच्या किती नोटा व 1 रुपयांची किती नाणी घ्यावी लागतील?

₹ 20 नोट :____, ₹ 10 नोट :____, ₹ 1 नाणी :____

अध्ययन निष्पत्ती क्र. 5

- आम्ही शिकलो : नोटांचा व नाण्यांचा वापर करायला शिकलो.

मूल्यांकन पत्रिका : 10

3. आपली संस्कृती

- तुमच्या जवळ 10 रुपयांच्या काही नोटा 1 रुपयांची नाणी आहेत; तर मग सांगा, की तुम्ही दुकानदाराला वस्तूचा मोबदला कशा प्रकारे द्याल ?

वस्तू	किंमत	दहा रुपयांच्या नोटा	1 रुपयाची नाणी
भाजी	₹ 38		
बादली	₹ 70		
मग	₹ 50		
दोर	₹ 75		
चप्पल	₹ 95		
नोटबुक	₹ 35		
पेन	₹ 5		
समोसा	₹ 25		

अध्ययन निष्पत्ती क्र. 5, 6, 11

- आम्ही शिकलो : नाणी आणि नोटांचा योग्यप्रकारे वापर करायला शिकलो.