

उल्लास

मूल्यांकन पत्रिका

4. आपल्या अवती-भोवती



राज्य शैक्षणिक संशोधन व प्रशिक्षण परिषद, महाराष्ट्र, पुणे.

राज्य साक्षरता केंद्र

मूल्यांकन पत्रिका : 1

4. आपल्या अवती-भोवती

- खालील चित्राचे निरीक्षण करा व सुरुवातीच्या अक्षराला गोल करा.



चांदणी



भाकरी




जलाशय



ऐक



दही



दवबिंदू

अध्ययन निष्पत्ती क्र. 2, 7

- आम्ही शिकलो : चित्राचे निरीक्षण करुन चित्राखालील शब्दाचे सुरुवातीचे अक्षर ओळखायला शिकलो.

मूल्यांकन पत्रिका : 2
4. आपल्या अवती-भोवती

- दिलेले शब्द बघा व जसेच्या तसे लिहा.

जिना

अंगण

शाळा

षटक

एकता

भय

पॅन

संत्री

अध्ययन निष्पत्ती क्र. 14

- आम्ही शिकलो : शब्द बघून जसेच्या तसे लिहायला शिकलो.


मूल्यांकन पत्रिका : 3

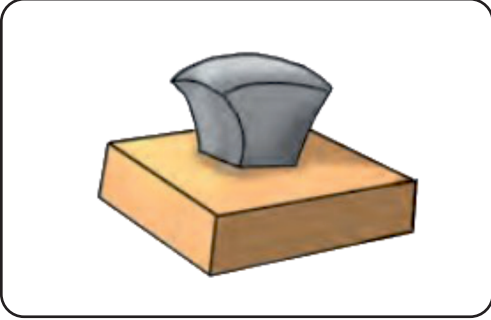
4. आपल्या अवती-भोवती

- चित्र बघा व चित्राच्या नावाच्या सुरुवातीचे अक्षर लिहा.



द











अध्ययन निष्पत्ती क्र. 7, 14

- आम्ही शिकलो : अक्षर ओळखून लेखन करायला शिकलो.

मूल्यांकन पत्रिका : 4

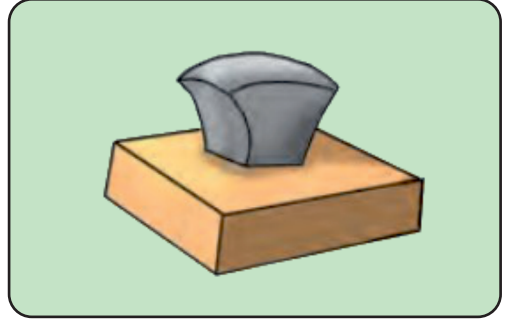
4. आपल्या अवती-भोवती


- खालील चित्रे बघून त्यांची नावे लिहा.













अध्ययन निष्पत्ती क्र. 7, 14

- आम्ही शिकलो : चित्रे बघून त्यांची नावे लिहायला शिकलो.

मूल्यांकन पत्रिका : 5
4. आपल्या अवती-भोवती

- दिलेल्या रिकाम्या जागेत पुढील अक्षरांपासून सुरु होणारे शब्द लिहा.
उदा. व – वाघ

1) ष _____

5) न _____

2) च _____

6) भ _____

3) ट _____

7) ड _____

4) ज _____

8) ए _____

अध्ययन निष्पत्ती क्र. 11, 12, 14

- आम्ही शिकलो : दिलेल्या अक्षरापासून सुरु होणारे शब्द लिहायला शिकलो.

मूल्यांकन पत्रिका : 6

4. आपल्या अवती-भोवती

- वर्तुळाबाहेरील अक्षरांना वर्तुळातील अक्षराशी जोडून शब्द तयार करा.



उदा. नारी

- 1) _____
- 2) _____
- 3) _____
- 4) _____
- 5) _____
- 6) _____







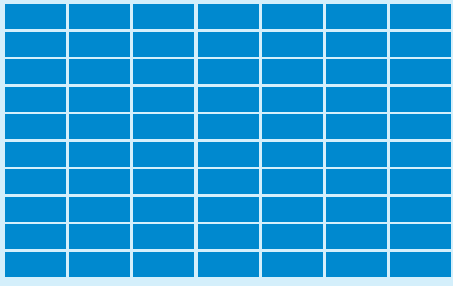

अध्ययन निष्पत्ती क्र. 5, 14

- आम्ही शिकलो : अक्षरे जोडून शब्द बनवायला शिकलो.

मूल्यांकन पत्रिका : 7

4. आपल्या अवती-भोवती

- प्रत्येक चित्रातील वस्तू मोजा व संख्या लिहा.

1)	<p>4 दशक</p> 	+	<p>2 एकक</p> 	=	
2)	<p>8 दशक</p> 	+	<p>8 एकक</p> 	=	
3)	<p>6 दशक</p> 	+	<p>7 एकक</p> 	=	
4)	<p>7 दशक</p> 	+	<p>5 एकक</p> 	=	

अध्ययन निष्पत्ती क्र. 1, 2, 3, 4

- आम्ही शिकलो : दशक व एकक मोजून संख्या तयार करायला शिकलो.

मूल्यांकन पत्रिका : 8

4. आपल्या अवती-भोवती

- दशकात एकक मिळवून संख्या तयार करा.

1) $50 + 7 =$

2) $60 + 3 =$

3) $83 + 5 =$

4) $96 + 8 =$

5) $5 + 70 =$

6) $4 + 90 =$

7) $50 + 30 =$

8) $9 + 9 =$

अध्ययन निष्पत्ती क्र. 1, 2, 3, 4

- आम्ही शिकलो : दशकात एकक मिळवून संख्या तयार करायला शिकलो.

मूल्यांकन पत्रिका : 9

4. आपल्या अवती-भोवती

- रिकाम्या जागी योग्य क्रमाने संख्या लिहा.

उदा.

1	2	3	4	5	6	7	8	9	10
---	---	---	---	---	---	---	---	---	----

33	___	___	36	37	___	___	___	41	___
----	-----	-----	----	----	-----	-----	-----	----	-----

___	78	___	___	81	___	___	___	___	86
-----	----	-----	-----	----	-----	-----	-----	-----	----

___	___	93	___	___	___	97	___	___	___
-----	-----	----	-----	-----	-----	----	-----	-----	-----

71	___	___	74	75	___	___	___	79	___
----	-----	-----	----	----	-----	-----	-----	----	-----

88	___	___	___	___	93	___	___	___	97
----	-----	-----	-----	-----	----	-----	-----	-----	----

अध्ययन निष्पत्ती क्र. 1

- आम्ही शिकलो : संख्या क्रमाने लिहायला शिकलो.

मूल्यांकन पत्रिका : 10
4. आपल्या अवती-भोवती

- पुढील संख्यासमूहांतील सर्वात मोठी संख्या ओळखून लिहा.

संख्यासमूह	सर्वात मोठी संख्या
उदा. 35, 53, 43	53
1) 67, 79, 97	
2) 28, 18, 8	
3) 44, 54, 64	
4) 66, 75, 35	
5) 99, 88, 77	
6) 59, 50, 58	

अध्ययन निष्पत्ती क्र. 1, 5

- आम्ही शिकलो : लहान-मोठी राशी ओळखायला शिकलो.

मूल्यांकन पत्रिका : 11

4. आपल्या अवती-भोवती

- शांताने फेरीवाल्याजवळून 40 रुपयांच्या 1 डझन बांगड्या व 33 रुपयांच्या रिबिनी विकत घेतल्या, तर तिने फेरीवाल्याला किती रुपये दिले ?

1 डझन बांगड्यांची
किंमत 40 रुपये

नोटा



नाणी

रिबिनीची किंमत
33 रुपये



फेरीवाल्याला
दिलेले एकूण रुपये
= _____



अध्ययन निष्पत्ती क्र. 1, 3, 5, 11

- आम्ही शिकलो : नाणी व नोटांची बेरीज करायला शिकलो.