

भाग क- वाचन

गुण - 50


1) दिलेल्या शब्दातील 'घ' व 'ठ' या अक्षरांना गोल करा. $1 \times 6 = 6$

घ - घर मेघ वाघ
ठ - ठसा काठ साठ

2) रेषा ओढून शब्द व चित्र यांच्या जोड्या लावा - $1 \times 5 = 5$

क.	चेंडू	
ख.	पंखा	
ग.	झाडाचे पान	
घ.	फूल	
ङ.	पतंग	

3) चित्रात दिसणाऱ्या चार वस्तूंच्या नावास गोल करा - $2 \times 4 = 8$



टिळ्ही शिक्षक विद्यार्थी खुर्ची टेबल

4) वाक्यांशाच्या दोन योग्य भागांना रेषेने जोडा -

2 × 5 = 10

क.	मतदान करण्यासाठी	हात स्वच्छ धुवावे.
ख	नेहमी रस्त्याच्या	वय वर्ष १८ पूर्ण असावे लागते .
ग.	जेवणापूर्वी	डाव्या बाजूने चालावे .
घ.	धुम्रपान	१२ महिने असतात .
ङ.	एका वर्षात	आरोग्यास अपायकारक आहे.

5) पोस्टर वाचा आणि दिलेल्या योग्य वाक्यासमोर (✓) आणि अयोग्य वाक्यासमोर (X)

अशी खूण करा

3x3=9

 **घाबरू नका... पण जागरूक रहा!**
करोना विषाणूपासून आपला बचाव करा!



**खोकताना व शिंकतांना आपल्या तोंडावर व नाकावर
रुमाल अथवा टिशू पेपर धरावा**
#करोनाविषाणू पासून सुरक्षित रहा!

अधिक माहितीसाठी संपर्क साधा :-
राष्ट्रीय कॉल सेंटर क्र. +91-11-23978046 • राज्यस्तरीय नियंत्रण कक्ष क्र. 020-26127394 • टोल फ्री हेल्पलाईन क्र. 104

 /MahaArogyaIECBureau  @MahaHealthIEC  /mahahealthiec  /MahaHealthIEC

राज्य आरोग्य शिक्षण व संपर्क विभाग, पुणे.

- खोकताना आपल्या तोंडावर रुमाल अथवा टिशू पेपर धरावा ()
- शिंकताना आपल्या तोंडावर रुमाल अथवा टिशू पेपर धरू नये ()
- कोरोना विषाणू पासून सुरक्षित रहा ()

6) पत्र वाचा आणि दिलेल्या योग्य वाक्यासमोर (✓) आणि अयोग्य वाक्यासमोर

(X) अशी खूण करा

2 × 6 = 12

प्रिय राजेश,

तुझे पत्र मिळाले. वाचून खूप आनंद झाला. आपल्या गावामध्ये ग्रंथालय सुरु झाल्याचे कळले. सोबतच तुम्ही सर्व मित्र आपल्या गावातील असाक्षराना साक्षर करण्याचे काम करत आहात हे वाचून बरे वाटले. मी या महीन्याच्या 29 तारखेला तुम्हाला भेटण्यास येत आहे.

तुझीच ताई

सविता

1. राजेश हा सविताचा भाऊ आहे ()
2. गावामध्ये ग्रंथालय सुरु झाले आहे ()
3. राजेश 29 तारखेला सवितास भेटण्यास जाणार आहे ()
4. गावामध्ये काही असाक्षर आहेत ()
5. राजेशचे मित्र असाक्षरांना साक्षर करण्याचे काम करत आहेत ()
6. सविता 29 तारखेस राजेशला भेटण्यास जाणार आहे. ()

भाग ख- लेखन

गुण- 50

1) दिलेल्या अक्षरांपासून एक-एक शब्द बनवा. $2 \times 3 = 6$

म - _____

ब - _____

त - _____

2) चित्र पाहून त्याचे नाव लिहा- $2 \times 5 = 10$





3) योग्य शब्द निवडून वाक्य पूर्ण करा - $2 \times 4 = 8$

१५ ऑगस्ट प्राथमिक आरोग्य मतदान करण्यासाठी नैसर्गिक व्यायाम

1. भारतीय स्वातंत्र्य दिन.....रोजी साजरा केला .
2.केंद्रावर औषधोपचाराची सुविधा असते
3. शरीर तंदुरुस्त होण्यासाठी नियमितकरायला हवा .
- 4..... मतदान केंद्रावर जावे लागते
5. भूकंप हीआपत्ती आहे

4) दिलेल्या शब्दापासून वाक्य बनवा. -

3×3=9

शेती . -

घर -

आई -

5) आपल्या राज्याचे व देशाचे नाव लिहा

1 × 2 = 2

राज्याचे नाव -

देशाचे नाव -

6.) दिलेले चित्र पाहून 5 वाक्ये लिहा -

3 × 5 = 15



क)-----

ख)-----

ग)-----

घ)-----







ड)-----

भाग ग- गणित

गुण- 50

1.चित्रे व संख्या यांच्या जोड्या जुळवा -

$$1 \times 6 = 6$$

	3
	6
	7
	8
	4
	2



2) क्रमाने संख्या पूर्ण करा-

$1 \times 5 = 5$

क	3	4	_____	6
ख	15	-----	25	30
ग	30	_____	50	60
घ	5	6	_____	8
च	13	15	17

3) खाली दिलेल्या सामानाची खरेदी करण्यासाठी आपण किती रुपये द्याल- वस्तू व रकमेची जोडी लावा

$1 \times 3 = 3$

गहू -250	
साखर ₹60	
मीठ -- ₹10	

4) उदाहरणे सोडवा -

$2 \times 4 = 8$

(क) $30 + 20 =$

(ख) $50 - 30 =$

(ग) $10 \times 2 =$

(घ) $32 \div 4$

5)अ) कमलेशने आपल्या बहिणीसाठी पुस्तक खरेदी केले? त्याने दुकानदारास 50 रुपयाच्या 6 नोटा आणि 10 रुपयाच्या 2 नोटा दिल्या.तर कमलेशने दुकानदारास एकूण किती रुपये दिले ?

$$1 \times 4 = 4$$

.....
.....

ख) डॉक्टरने समाला 10 गोळ्यांचे पाकीट दिले व दररोज एक गोळी घेण्यास सांगितले तर डॉक्टरने समाला किती दिवसांच्या गोळ्या दिल्या ?

$$1 \times 4 = 4$$

.....
.....

6)रिकाम्या जागा भरा -

$$2 \times 4 = 8$$

2 किलोग्रॅम = ग्रॅम



1 तास = मिनिटे

1 लीटर = मिलीलीटर

5000 ग्रॅम= किलोग्रॅम

7. घड्याळ पाहून वेळ लिहा -

$$2 \times 4 = 8$$

	
.....वाजूनमिनिटेवाजूनमिनिटे

प्रश्न 8. दिनदर्शिका पाहून उत्तरे लिहा -

1×4 = 4

डिसेंबर

र	सो	मं	बु	गु	शु	श
1	2	3	4	5	6	7
8	9	10	11	12	13	14
15	16	17	18	19	20	21
22	23	24	25	26	27	28
29	30	31				

- 1) डिसेंबर महिन्यात किती शुक्रवार आले आहेत ?
- 2) डिसेंबर महिना कोणत्या दिवशी सुरु झाला आहे ?
- 3) 25 तारखेला कोणता वार येतो ?
- 4) डिसेंबर महिन्यात किती रविवार आले आहेत ?